



Prénom :



Lecture

Pompon le pompier



Ça ne tourne pas rond pour le pompier Pompon : il mange trop de bonbons, puis a mal au bidon.

Il arrose son balcon avec du jus de melon.


La laine de son mouton sert à coudre ses boutons.

Il invente des chansons qui parlent de cornichons.

Fait des rondes sur le pont en jouant au ballon.

Compte les bulles de savon en buvant son biberon....

« Allons, Pompon, voyons ! Retrouve donc ta raison ! »





Prénom :



Lecture

Pompon le pompier



Ça ne tourne pas pour le pompier Pompon : il mange trop de, puis a mal au bidon.

Il arrose son balcon avec du jus de

La laine de son sert à coudre ses

Il invente des qui parlent de cornichons.

Fait des sur le pont en jouant au

Compte les bulles de en buvant son biberon....

«, Pompon, voyons ! Retrouve donc ta raison ! »

savon	rond	melon	boutons	Allons
mouton	chansons	bonbons	rondes	ballon

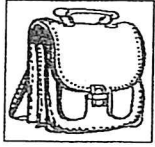
Prénom :

Date :

LECTURE

LES VOYELLES (07)


1./ Complète les mots suivants avec les voyelles manquantes :



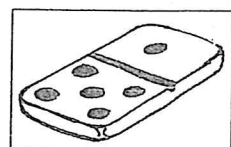
un c...rt...bl...




un ...sc...rg...t




du fr...m...g...




UN D...M...N...




du ch...c...l...t




UN ...N...N...S



un ...rd...n...teur




un l...v...b...



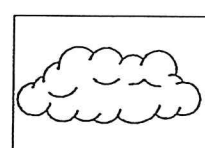
la m...s...qu...




un p...r...t...



un p...r...ch...t...



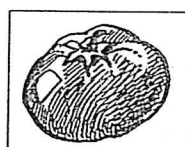
un n.....g...




une ch...m...s...



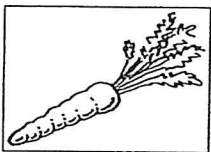
une v...ch...



UNE T...M...T...




des c...r...s...s



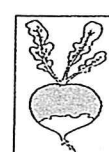
une c...r...tt...



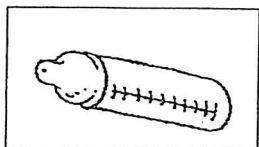
un v...ll...g...



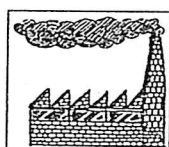
un c...d...n...s



UN R...D...S



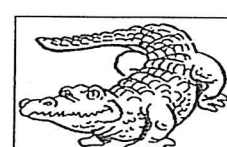
UN B...B...RON




une ...s...n...



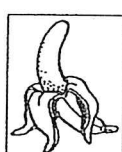
une f...m...ll...



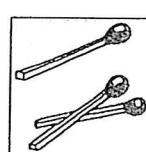
un cr...c...d...l...




une l...c...m...t...v...



UNE B...N...N...



des ...ll...mett...



une f...nêtr...



Série n°15

Prénom :

Calcul mental.

< > =

$15 + 3 = 20$

$19 - 6 = 12$

$15 + 2 = 15$

$13 - 2 = 11$

$14 + 2 = 18$

$13 - 2 = 20$

$18 + 2 = 20$

$15 + 2 = 13$

$17 - 4 = 12$

$15 - 3 = 15$

$18 - 3 = 13$

$19 + 1 = 16$

$15 - 3 = 11$

$17 + 2 = 13$

$11 + 2 = 10$

$19 - 2 = 16$

$18 + 2 = 19$

$17 + 1 = 19$

$13 + 4 = 15$

$18 - 2 = 13$

$17 + 3 = 14$

$13 - 2 = 10$

$17 - 4 = 13$

$18 + 2 = 15$

$17 - 7 = 12$

$20 - 9 = 15$

$19 + 2 = 20$

$18 - 5 = 13$

$17 + 3 = 15$

$16 + 2 = 18$

$19 + 1 = 20$

$19 - 2 = 13$

$20 - 5 = 10$

$15 - 3 = 11$

$17 + 1 = 16$

$18 + 1 = 20$

$19 - 4 = 18$

$17 + 2 = 10$

$19 + 1 = 20$

$14 + 3 = 17$

$18 + 0 = 18$

$10 + 5 = 20$

$12 - 7 = 5$

$18 - 9 = 8$

$13 - 5 = 7$

$19 - 7 = 9$

$15 - 7 = 9$

$13 + 2 = 15$

$16 - 2 = 11$

$17 - 5 = 10$

$18 - 3 = 14$

$20 - 5 = 15$

$18 + 3 = 20$

$16 - 3 = 12$

$15 + 3 = 18$

$16 - 3 = 12$

$15 + 4 = 19$

$20 - 5 = 13$

$18 + 1 = 10$

$19 + 1 = 13$

$15 - 4 = 11$

$14 - 2 = 13$

$18 - 5 = 13$



Champion en math !



Serie n°15

Prénom :

Calcul mental.

< > =

$15 + 3 \cdot 20$

$19 - 6 \cdot 12$

$15 + 2 \cdot 15$

$13 - 2 \cdot 11$

$14 + 2 \cdot 18$

$13 - 2 \cdot 20$

$18 + 2 \cdot 20$

$15 + 2 \cdot 13$

$17 - 4 \cdot 12$

$15 - 3 \cdot 15$

$18 - 3 \cdot 13$

$19 + 1 \cdot 16$

$15 - 3 \cdot 11$

$17 + 2 \cdot 13$

$11 + 2 \cdot 10$

$19 - 2 \cdot 16$

$18 + 2 \cdot 19$

$17 + 1 \cdot 19$

$13 + 4 \cdot 15$

$18 - 2 \cdot 13$

$17 + 3 \cdot 14$

$13 - 2 \cdot 10$

$17 - 4 \cdot 13$

$18 + 2 \cdot 15$

$17 - 7 \cdot 12$

$20 - 9 \cdot 15$

$19 + 2 \cdot 20$

$18 - 5 \cdot 13$

$17 + 3 \cdot 15$

$16 + 2 \cdot 18$

$19 + 1 \cdot 20$

$19 - 2 \cdot 13$

$20 - 5 \cdot 10$

$15 - 3 \cdot 11$

$17 + 1 \cdot 16$

$18 + 1 \cdot 20$

$19 - 4 \cdot 18$

$17 + 2 \cdot 10$

$19 + 1 \cdot 20$

$14 + 3 \cdot 17$

$18 + 0 \cdot 18$

$10 + 5 \cdot 20$

$12 - 7 \cdot 5$

$18 - 9 \cdot 8$

$13 - 5 \cdot 7$

$19 - 7 \cdot 9$

$15 - 7 \cdot 9$

$13 + 2 \cdot 15$

$16 - 2 \cdot 11$

$17 - 5 \cdot 10$

$18 - 3 \cdot 14$

$20 - 5 \cdot 15$

$18 + 3 \cdot 20$

$16 - 3 \cdot 12$

$15 + 3 \cdot 18$

$16 - 3 \cdot 12$

$15 + 4 \cdot 19$

$20 - 5 \cdot 13$

$18 + 1 \cdot 10$

$19 + 1 \cdot 13$

$15 - 4 \cdot 11$

$14 - 2 \cdot 13$

$18 - 5 \cdot 13$



Champion en math !

Fiche 15

$$\begin{array}{r} 12 \\ + 39 \\ \hline \end{array}$$

$$\begin{array}{r} 24 \\ + 57 \\ \hline \end{array}$$

$$\begin{array}{r} 55 \\ + 36 \\ \hline \end{array}$$

$$\begin{array}{r} 36 \\ + 44 \\ \hline \end{array}$$

$$\begin{array}{r} 48 \\ + 35 \\ \hline \end{array}$$

$$\begin{array}{r} 39 \\ + 12 \\ \hline \end{array}$$

$$\begin{array}{r} 28 \\ + 53 \\ \hline \end{array}$$

$$\begin{array}{r} 69 \\ + 21 \\ \hline \end{array}$$

$$\begin{array}{r} 88 \\ + 15 \\ \hline \end{array}$$

$$\begin{array}{r} 46 \\ + 36 \\ \hline \end{array}$$

$$\begin{array}{r} 25 \\ + 58 \\ \hline \end{array}$$

$$\begin{array}{r} 39 \\ + 61 \\ \hline \end{array}$$

$$\begin{array}{r} 65 \\ + 27 \\ \hline \end{array}$$

$$\begin{array}{r} 44 \\ + 19 \\ \hline \end{array}$$

$$\begin{array}{r} 57 \\ + 15 \\ \hline \end{array}$$

$$\begin{array}{r} 14 \\ + 26 \\ \hline \end{array}$$

$$\begin{array}{r} 67 \\ + 27 \\ \hline \end{array}$$

$$\begin{array}{r} 27 \\ + 58 \\ \hline \end{array}$$

$$\begin{array}{r} 35 \\ + 45 \\ \hline \end{array}$$

$$\begin{array}{r} 49 \\ + 12 \\ \hline \end{array}$$

$$\begin{array}{r} 68 \\ + 16 \\ \hline \end{array}$$

$$\begin{array}{r} 57 \\ + 24 \\ \hline \end{array}$$

$$\begin{array}{r} 36 \\ + 25 \\ \hline \end{array}$$

$$\begin{array}{r} 24 \\ + 68 \\ \hline \end{array}$$

$$\begin{array}{r} 78 \\ + 18 \\ \hline \end{array}$$

$$\begin{array}{r} 38 \\ + 59 \\ \hline \end{array}$$

$$\begin{array}{r} 45 \\ + 36 \\ \hline \end{array}$$

$$\begin{array}{r} 54 \\ + 27 \\ \hline \end{array}$$

$$\begin{array}{r} 69 \\ + 25 \\ \hline \end{array}$$

$$\begin{array}{r} 45 \\ + 36 \\ \hline \end{array}$$

$$\begin{array}{r} 74 \\ + 16 \\ \hline \end{array}$$

$$\begin{array}{r} 66 \\ + 15 \\ \hline \end{array}$$

$$\begin{array}{r} 17 \\ + 46 \\ \hline \end{array}$$

$$\begin{array}{r} 59 \\ + 24 \\ \hline \end{array}$$

$$\begin{array}{r} 46 \\ + 16 \\ \hline \end{array}$$

$$\begin{array}{r} 26 \\ + 67 \\ \hline \end{array}$$

$$\begin{array}{r} 56 \\ + 15 \\ \hline \end{array}$$

$$\begin{array}{r} 37 \\ + 25 \\ \hline \end{array}$$

$$\begin{array}{r} 56 \\ + 28 \\ \hline \end{array}$$

$$\begin{array}{r} 38 \\ + 49 \\ \hline \end{array}$$

$$\begin{array}{r} 37 \\ + 26 \\ \hline \end{array}$$

$$\begin{array}{r} 45 \\ + 37 \\ \hline \end{array}$$

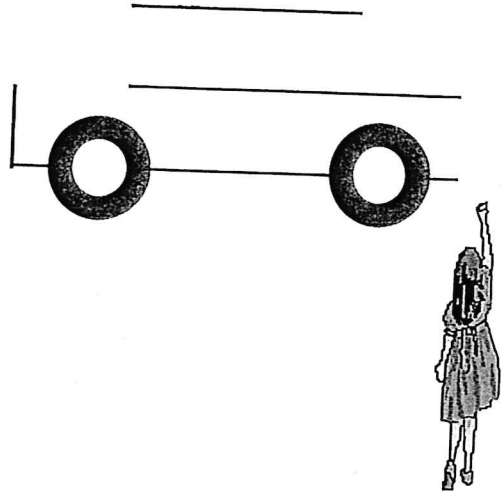

$$\begin{array}{r} 57 \\ + 24 \\ \hline \end{array}$$

$$\begin{array}{r} 64 \\ + 18 \\ \hline \end{array}$$

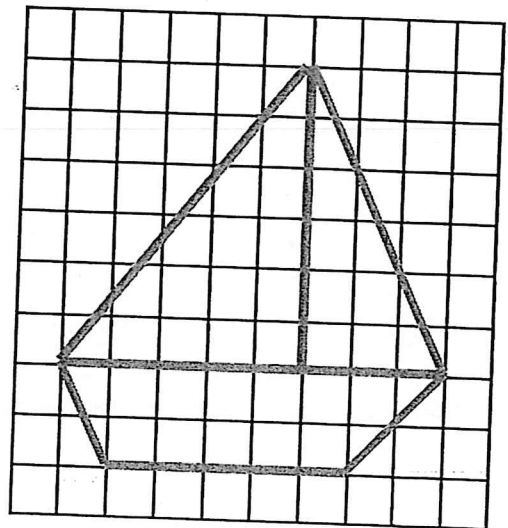
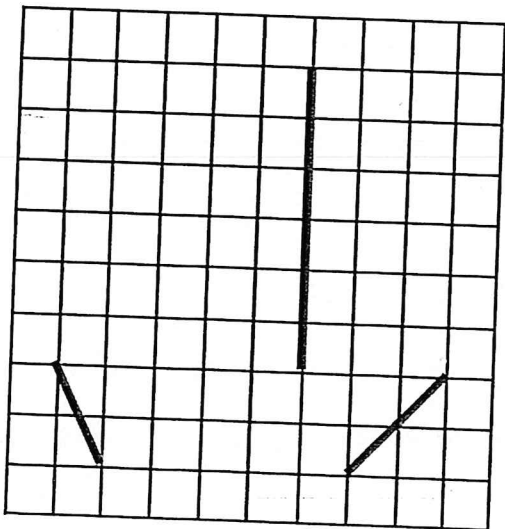
$$\begin{array}{r} 29 \\ + 46 \\ \hline \end{array}$$

COMPLÉTER UNE FIGURE

1) Pierrot a fait une belle voiture. Perrine essaye de faire la même. Trace à la règle les lignes qui manquent.

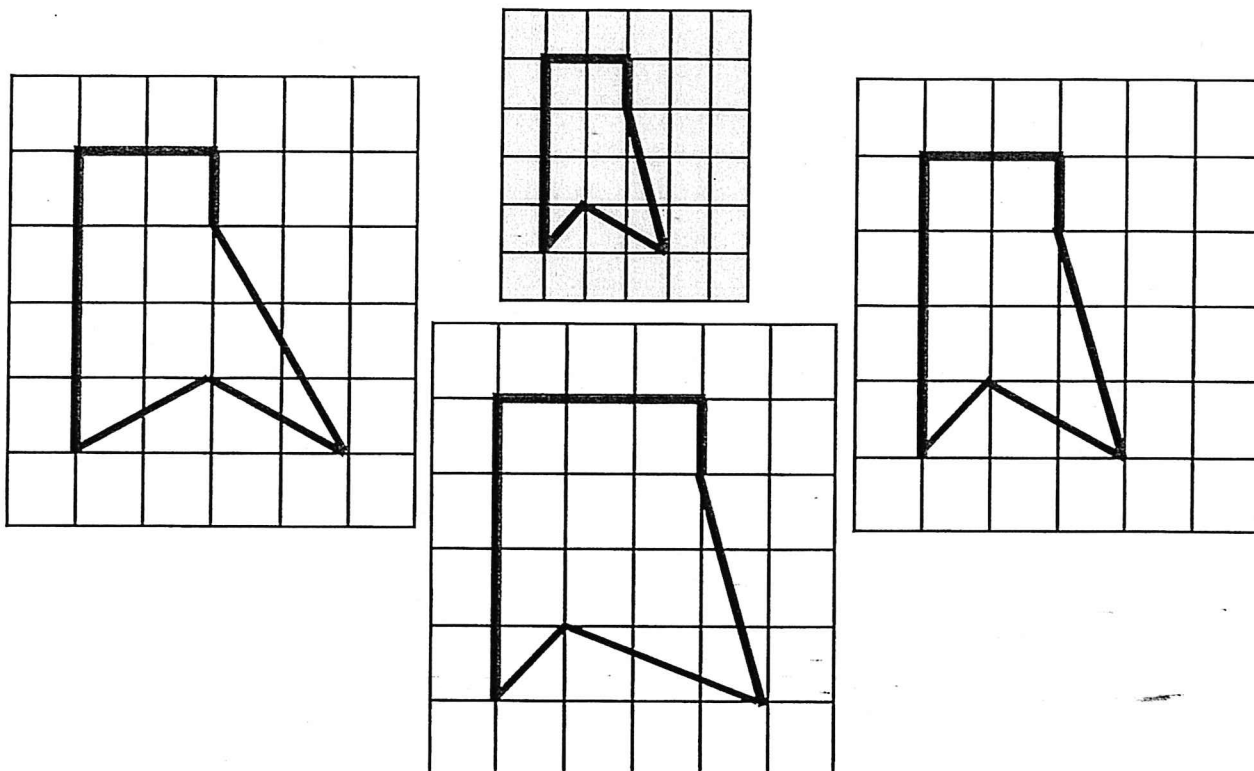


2) Observe bien le quadrillage de droite et trace avec ta règle les traits qui manquent dans celui de gauche.

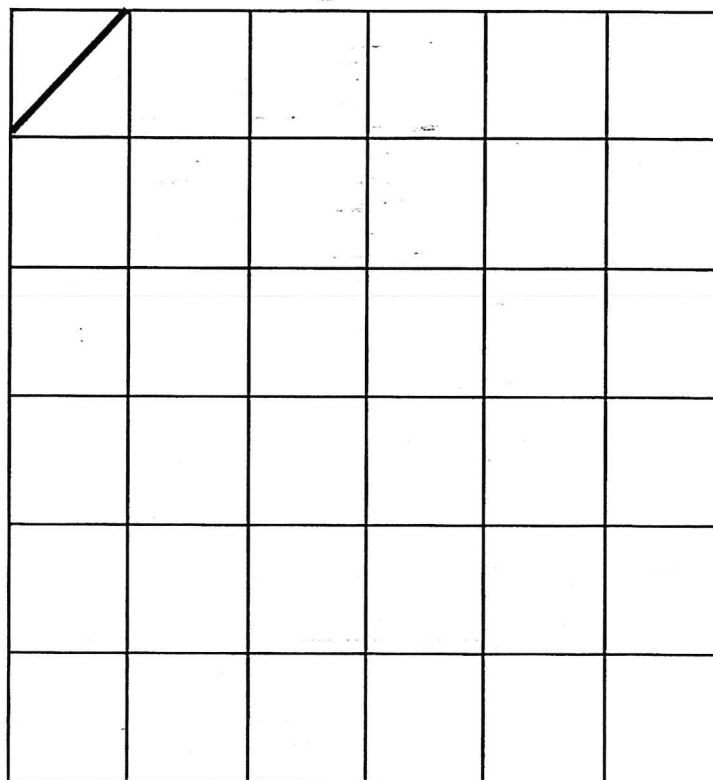
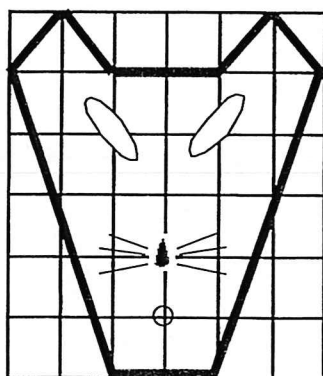


AGRANDISSEMENT D'UNE FIGURE

1) On a reproduit le dessin en l'agrandissant. Parmi les 3 reproductions, une seule est correcte. Entoure-la et corrige avec un crayon de couleur les 2 qui sont fausses.



2) Reproduis cette figure en l'agrandissant.



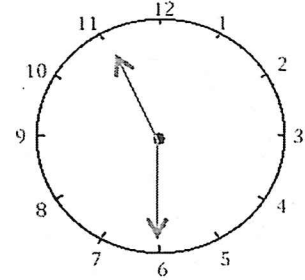
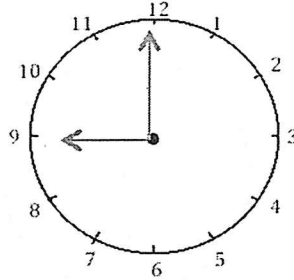
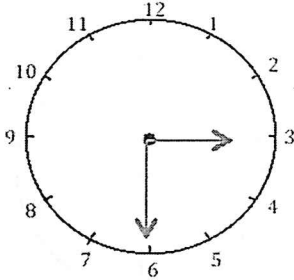


Mesures

Fiche 4

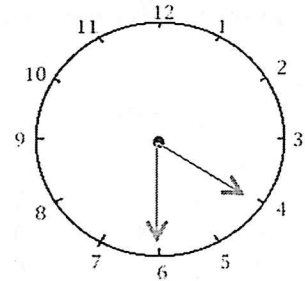
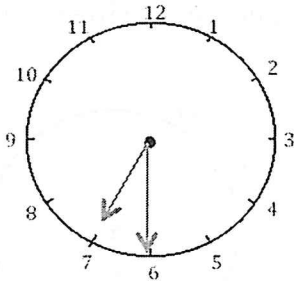
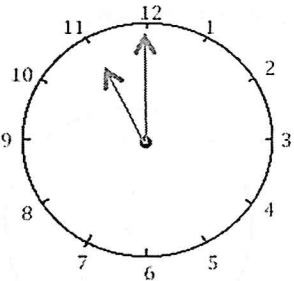
Les heures

1 J'écris les heures indiquées sur ces horloges. Nous sommes le matin.



Il est ___ h et ___ min. Il est ___ h et ___ min. Il est ___ h et ___ min.

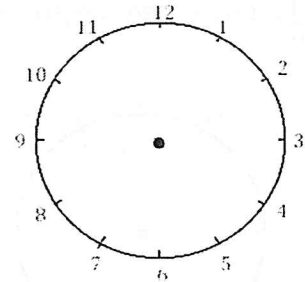
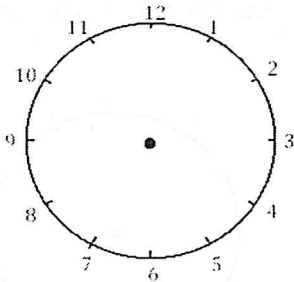
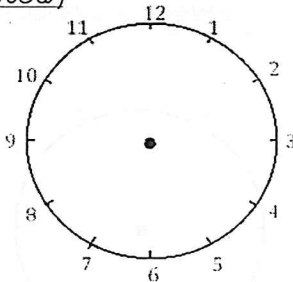
2 J'écris les heures indiquées sur ces horloges. Nous sommes l'après-midi.



Il est ___ h et ___ min. Il est ___ h et ___ min. Il est ___ h et ___ min.

3 Je place les aiguilles selon les heures indiquées. (heures en rouge, minutes

bleu)



Il est 12 h 30 min.

Il est 9 h 00 min.

Il est 15 h 30 min.

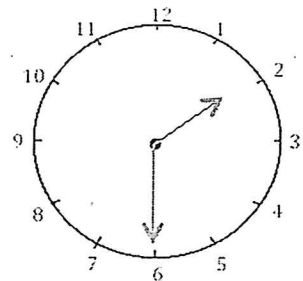
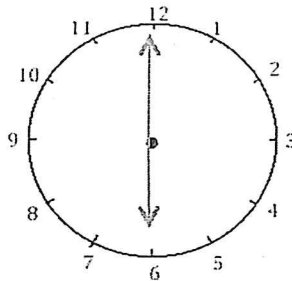
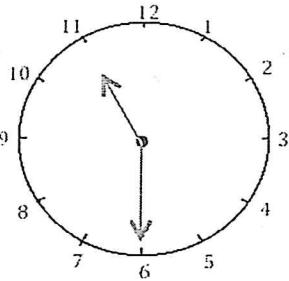


Mesures

Fiche 5

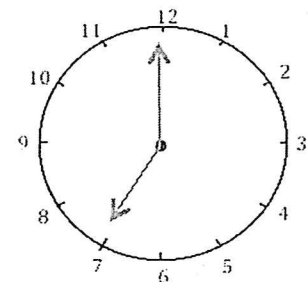
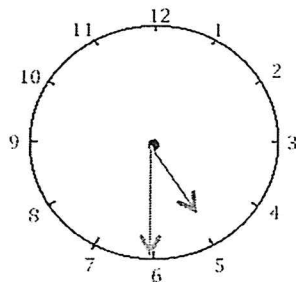
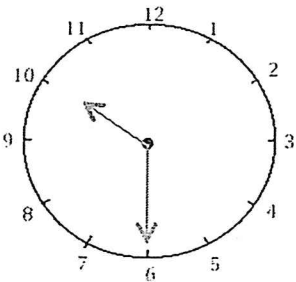
Les heures

1 J'écris les heures indiquées sur ces horloges. Nous sommes l'après-midi.



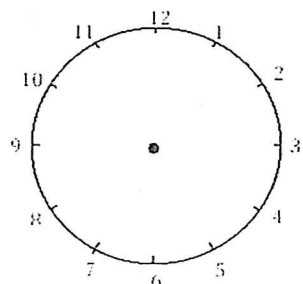
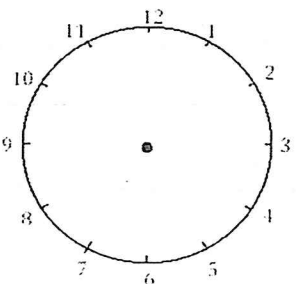
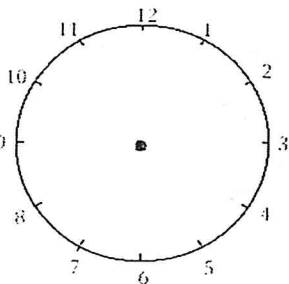
Il est ___ h et ___ min. Il est ___ h et ___ min. Il est ___ h et ___ min.

2 J'écris les heures indiquées sur ces horloges. Nous sommes le matin.



Il est ___ h et ___ min. Il est ___ h et ___ min. Il est ___ h et ___ min.

3 Je place les aiguilles selon les heures indiquées. (heures en rouge, minutes en bleu)









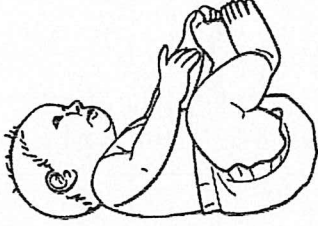


Il est 21 h 30 min.

Il est 13 h 00 min.






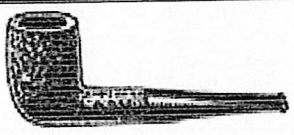


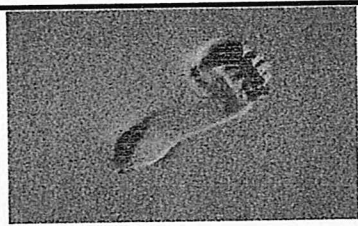
Il est 18 h 30 min.

Je colle les syllabes pour former des mots : 3

		
Le <input type="text"/>	La <input type="text"/>	Un <input type="text"/>
		
Un <input type="text"/>	Un <input type="text"/>	Il <input type="text"/>
		
Des <input type="text"/>	Une <input type="text"/>	Un <input type="text"/>





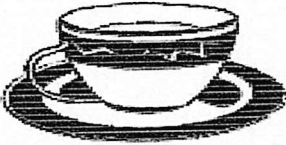

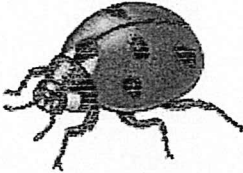


pe	me	ves	le	be	hom
bre	che	bi	pe	rhu	pa
me	ar	pe	che	vil	be

Je colle les syllabes pour former des mots : 4

		
La <input type="text"/>	Un <input type="text"/>	Une <input type="text"/>
		
<input type="text"/>	Un <input type="text"/>	Une <input type="text"/>
		
Une <input type="text"/>	Un <input type="text"/>	Le <input type="text"/>

le	vre	pa	ro	li	me
bo	pha	ble	pi	me	bal
pa	pom	re	pe	plu	sa

Je colle les syllabes pour former des mots : 5

		
Une <input type="text"/> <input type="text"/>	Une <input type="text"/> <input type="text"/>	Une <input type="text"/> <input type="text"/>
		
Une <input type="text"/> <input type="text"/>	Une <input type="text"/> <input type="text"/>	La <input type="text"/> <input type="text"/>
		
Une <input type="text"/> <input type="text"/>	Une <input type="text"/> <input type="text"/>	Un <input type="text"/> <input type="text"/>

pri	me	ble	se	pe	mé
bê	ra	flû	se	ju	for
tas	mé	ta	dis	te	te



X	Y	M	E	L	L	E	P	L	N	S	L	O	M	F
P	O	I	S	S	O	N	G	O	I	E	L	B	A	S
L	U	Q	P	N	M	P	I	M	S	E	F	W	X	H
A	Y	P	B	J	I	V	H	H	E	J	L	K	Z	N
G	R	S	A	H	A	F	R	Q	C	O	E	O	U	Y
E	E	E	L	R	F	Ç	O	T	N	G	N	A	S	T
A	E	A	A	E	G	A	R	E	A	K	E	D	M	P
Y	T	U	D	E	U	O	B	L	C	T	W	B	B	R
E	U	R	E	M	P	R	L	F	A	R	R	Z	T	I
T	O	M	M	O	H	I	E	H	V	C	Ç	U	H	C
I	R	H	R	W	U	B	C	O	L	Y	V	A	T	R
S	O	A	J	Q	K	V	O	Y	A	G	E	E	H	A
I	T	S	O	N	U	A	E	T	A	B	B	T	U	B
V	U	C	H	T	C	N	I	A	R	T	M	A	E	E
Y	A	T	G	C	T	O	I	L	E	E	X	R	J	A



VACANCES
MER
CRABE
COQUILLAGE
POISSON
SABLE

SEAU
RATEAU
PELLE
AUTOROUTE
BALADE

CHATEAU
TOILE
SOLEIL
PLAGE
JEU

BATEAU
TRAIN
AVION
GARE
VOYAGE
VISITE

Les saisons (2)

⊗ Dans chaque colonne, entoure les mots identiques au modèle.

printemps	été	automne	hiver
prince	été	automne	hibou
printemps	était	autruche	hiver
longtemps	fée	automne	livrer
printemps	épée	pomme	hiver
primevère	été	autonome	livreur

⊗ Dans cette grille, colorie les saisons cachées. printemps - été - automne - hiver

é	p	r	i	n	t	e	m	p	s
t	é	h	i	v	e	é	t	é	a
a	u	t	o	m	n	e	p	r	i
r	a	u	t	o	h	i	v	e	r

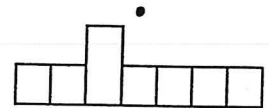
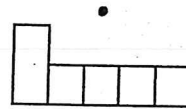
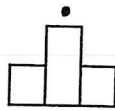
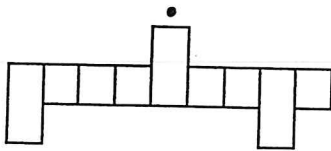
⊗ Relie chaque saison à sa silhouette.

été

automne

hiver

printemps



⊗ Dans chaque grille, barre les lettres qui apparaissent plus d'une fois et découvre les mots cachés.

i	a	c	f	g
h	l	u	j	p
t	p	g	c	o
r	m	h	n	i
j	f	e	l	r

u	b	h	o	n
i	l	s	t	u
n	m	w	v	a
t	e	b	o	l
s	a	w	m	r

mot caché : _____

mot caché : _____