
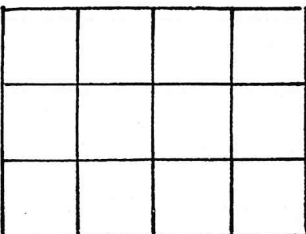
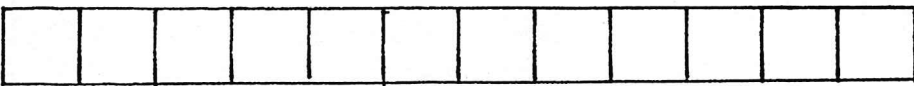
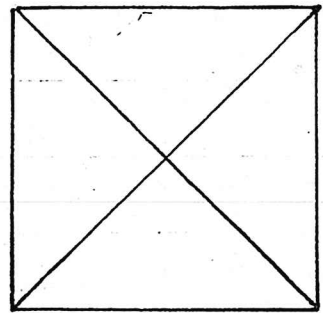
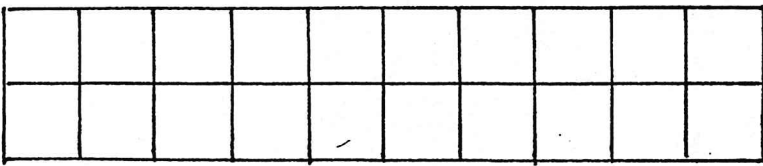

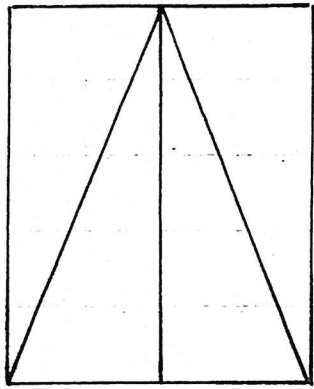

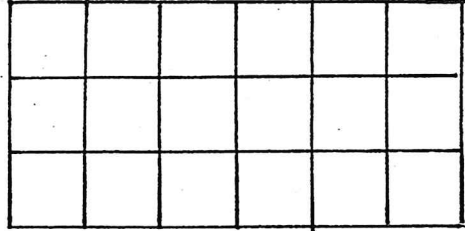
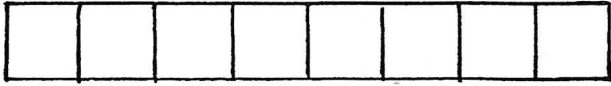


Colorie  $\frac{1}{2}$ .



## compréhension

1. baroline se promène près du lac.
2. Martin a une locomotive.
3. Le canot flotte sur le lac.
4. Lucie prépare la pâte à crêpes.
5. La locomotive est cassée.
6. Le canard est près du lac.
7. Luc prépare des macaronis.
8. Marie sucre les crêpes.
9. Luc répare la locomotive.
10. Les macaronis fument dans la casserole.



est → è

Le lapin est rose.

La pomme est rouge.

Le nuage est blanc.

L'auto est bleue.

Le citron est jaune.


La feuille est verte.

Le chat est noir.

L'oiseau est brun.



# Le son an : an - an



1.



Entoure les { an - an }.

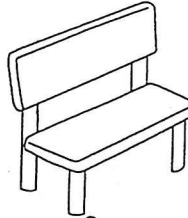


Colorie en rose les noms féminins, en bleu clair les noms masculins et en rouge les actions.




Nina chante.

Nina chante.



un banc

un banc




de la viande

de la viande



une manche

une manche



une branche

une branche



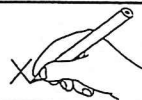
une plante

une plante


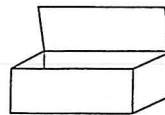
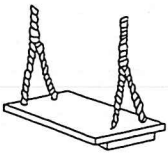
2.



J'entends { a n }.



Barre le(s) intrus.




3.



Complète avec : ban, ran, fan, ran, gan.



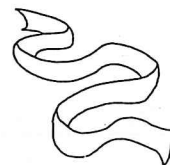
un \_\_\_\_\_ tôme



un di \_\_\_\_\_



un \_\_\_\_\_ t



un ru \_\_\_\_\_



le \_\_\_\_\_ g



le mot que je



une plante

un ruban

de la viande

ma tante

une pantoufle

du sang

maman


un toboggan

un géant<sub>x</sub>

un pantalon



le mot que je



un fantôme

une branche

une balançoire

une orange

une planche

la tranche

triangle


grand<sub>x</sub>

un gant<sub>x</sub>

<sup>un</sup> enfant<sub>x</sub>



le mot que je



un monstre

maison

une montre

un bouton

une éponge

un ballon

un pantalon

un melon

un cochon

un talon

Prénom : .....

Date : .....

<b>Problèmes : lire un tarif.</b>
-----------------------------------

**Tarif piscine.**

Entrée adulte (plus de 16 ans)	2 €
Entrée enfant (de 3 à 16 ans)	1 €
Location Bonnet, lunettes, serviette	0,50 €
Bain à bulles	2 €
Sauna	2 €
Pour les enfants de moins de 3 ans	Gratuit


**Complète le tableau ci-dessous à l'aide du tarif :**

Julien	Un bonnet et des lunettes	.....
Papa	.....	2 €
Céline	Une serviette	.....
Paul (2 ans)	.....	Gratuit
Antoine (7 ans)	Une entrée piscine	.....
Sophie (18 ans)	Une entrée et un bain à bulles	..... .....
Louise	..... .....	2,50 €
Pierre	..... .....	3 €





le mot que je



une oie

un toit<sub>x</sub>

une toile

un mois<sub>x</sub>

un bois<sub>x</sub>

une noix<sub>x</sub>

un roi

une poire


noire

une croix<sub>x</sub>



PRÉNOM : .....

DATE : .....








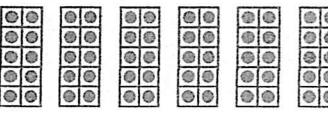
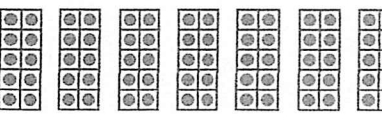




Numération



# Les dizaines



		n <sup>bre</sup> de buildings n <sup>bre</sup> de dizaine	n <sup>bre</sup> d'appartements n <sup>bre</sup> de cubes	
		..... dizaine	..... unités	dix
		..... dizaines	..... unités	vingt
		..... dizaines	..... unités	trente
		..... dizaines	..... unités	quarante
		..... dizaines	..... unités	cinquante
		..... dizaines	..... unités	soixante
		..... dizaines	..... unités	septante
		..... dizaines	..... unités	quatre-vingt
		..... dizaines	..... unités	nonante





Prénom : \_\_\_\_\_

BON TRAVAIL, LES P'TITS LOUPS !

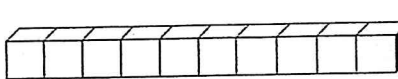
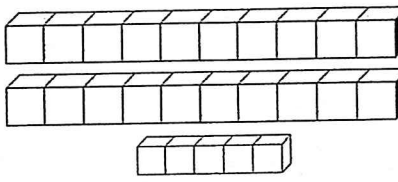
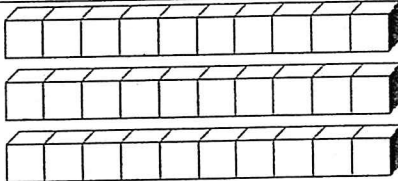
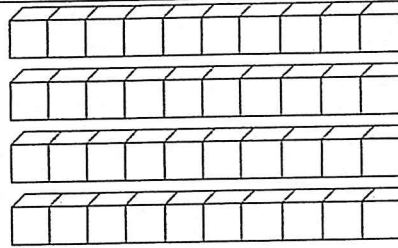
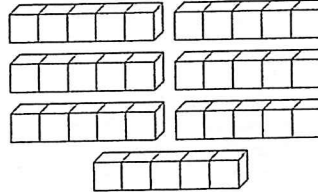
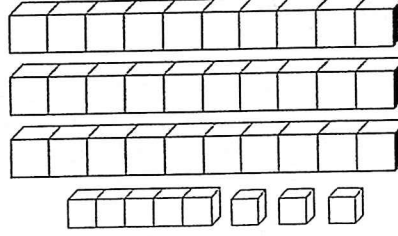
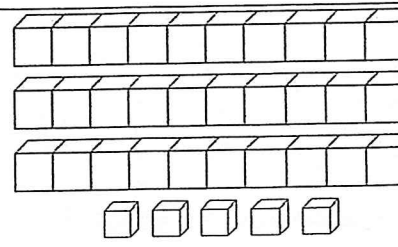
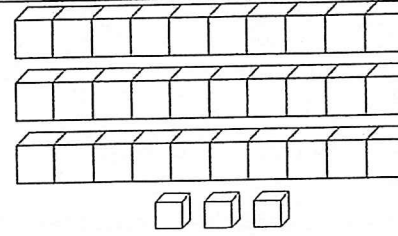
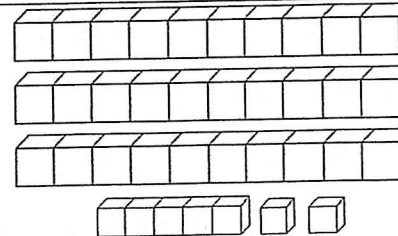
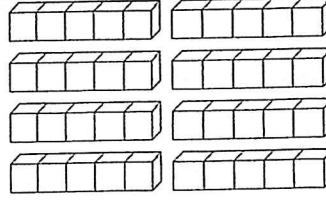
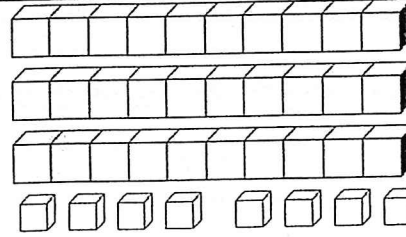
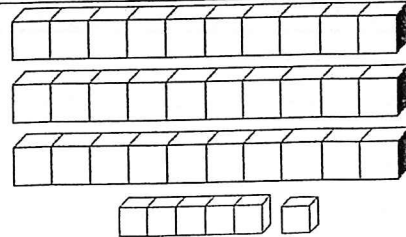
Numération

Les nombres de 0 à 40

- Complète la suite numérique de 1 à 40 :

1	.....	.....	.....	.....	.....	.....	.....	.....	10
.....	.....	.....	.....	.....	.....	.....	.....	.....	20
21	.....	.....	.....	.....	.....	.....	.....	.....	.....
31	.....	.....	.....	.....	.....	.....	.....	.....	40

- Combien y a-t-il de cubes dans les cases suivantes ?

 <p>.....</p>	 <p>.....</p>	 <p>.....</p>
 <p>.....</p>	 <p>.....</p>	 <p>.....</p>
 <p>.....</p>	 <p>.....</p>	 <p>.....</p>
 <p>.....</p>	 <p>.....</p>	 <p>.....</p>



Prénom : \_\_\_\_\_

BON TRAVAIL, LES P'TITS LOUPS !

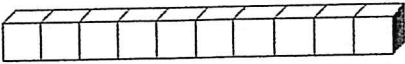
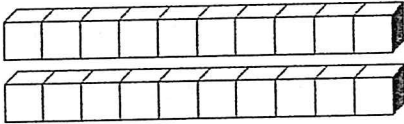
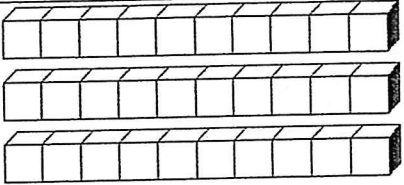
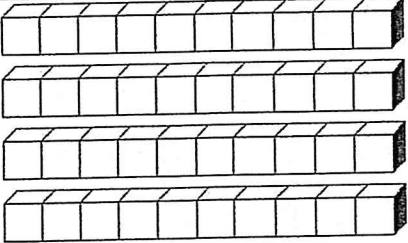
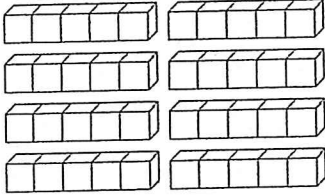
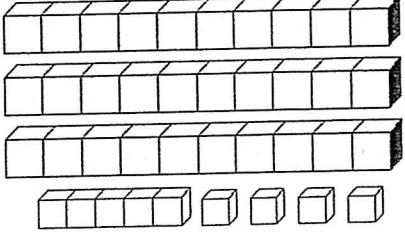
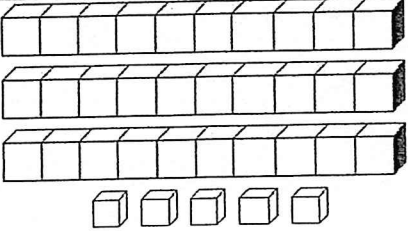
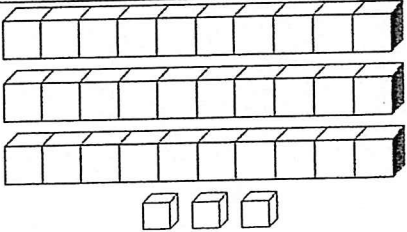
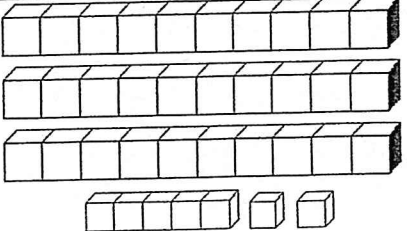
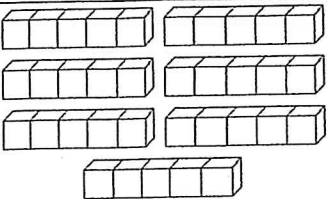
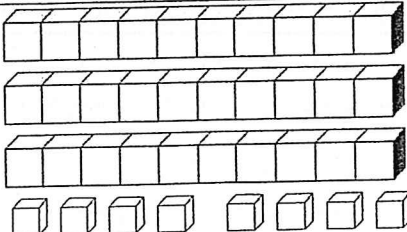
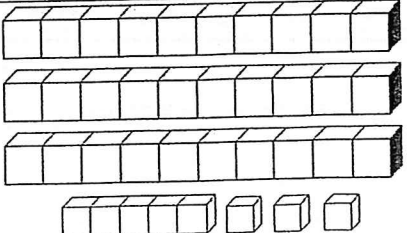
Numération

Les nombres de 0 à 40

• Complète la suite numérique de 1 à 40 :

1	.....	.....	4	.....	.....	.....	8	.....	10
11	.....	.....	14	.....	.....	.....	18	.....	20
21	.....	.....	24	.....	.....	.....	28	.....	30
31	.....	.....	34	.....	.....	.....	38	.....	40

• Combien y a-t-il de cubes dans les cases suivantes ?

 <p>10 20 30</p>	 <p>10 20 30</p>	 <p>10 20 30</p>
 <p>20 30 40</p>	 <p>40 30 20</p>	 <p>36 39 35</p>
 <p>25 35 15</p>	 <p>34 33 32</p>	 <p>17 27 37</p>
 <p>30 35 40</p>	 <p>38 37 39</p>	 <p>39 37 38</p>



Prénom : \_\_\_\_\_

BON TRAVAIL, LES P'TITS LOUPS !

Numération

Les nombres de 0 à 40

• Complète :

- ▶ 

2	3	.....	5	6
---	---	-------	---	---

      ▶ 

9	10	.....	.....	13
---	----	-------	-------	----
- ▶ 

15	16	.....	18	19
----	----	-------	----	----

      ▶ 

19	20	.....	.....	23
----	----	-------	-------	----
- ▶ 

28	29	.....	.....	32
----	----	-------	-------	----

      ▶ 

24	25	.....	.....	28
----	----	-------	-------	----
- ▶ 

30	.....	32	.....	34
----	-------	----	-------	----

      ▶ 

35	.....	37	.....	39
----	-------	----	-------	----
- ▶ 

36	.....	.....	.....	40
----	-------	-------	-------	----

      ▶ 

34	.....	.....	.....	38
----	-------	-------	-------	----

• Range du plus PETIT au plus GRAND :

- |    |    |    |    |    |           |           |    |    |    |
|----|----|----|----|----|-----------|-----------|----|----|----|
| 24 | 12 | 18 | 22 | 30 | <b>38</b> | <b>10</b> | 34 | 28 | 36 |
|----|----|----|----|----|-----------|-----------|----|----|----|
- ▶ 

<b>10</b>	.....	.....	.....	.....	.....	.....	.....	.....	<b>38</b>
-----------	-------	-------	-------	-------	-------	-------	-------	-------	-----------
- |    |    |   |    |    |    |    |    |    |    |
|----|----|---|----|----|----|----|----|----|----|
| 13 | 27 | 9 | 29 | 17 | 25 | 37 | 31 | 11 | 21 |
|----|----|---|----|----|----|----|----|----|----|
- ▶ 

.....	.....	.....	.....	.....	.....	.....	.....	.....	.....
-------	-------	-------	-------	-------	-------	-------	-------	-------	-------

• Range du plus GRAND au plus PETIT :

- |    |          |    |    |    |           |    |    |    |    |
|----|----------|----|----|----|-----------|----|----|----|----|
| 25 | <b>5</b> | 35 | 13 | 30 | <b>40</b> | 10 | 37 | 20 | 15 |
|----|----------|----|----|----|-----------|----|----|----|----|
- ▶ 

<b>40</b>	.....	.....	.....	.....	.....	.....	.....	.....	<b>5</b>
-----------	-------	-------	-------	-------	-------	-------	-------	-------	----------
- |    |    |    |    |    |    |    |    |    |    |
|----|----|----|----|----|----|----|----|----|----|
| 36 | 33 | 38 | 32 | 37 | 34 | 30 | 39 | 31 | 35 |
|----|----|----|----|----|----|----|----|----|----|
- ▶ 

.....	.....	.....	.....	.....	.....	.....	.....	.....	.....
-------	-------	-------	-------	-------	-------	-------	-------	-------	-------

• Observe et complète :

- ▶ 

2	4	6	8	10	.....	.....	.....	18	20
---	---	---	---	----	-------	-------	-------	----	----
- ▶ 

3	5	7	9	11	.....	.....	.....	19	21
---	---	---	---	----	-------	-------	-------	----	----
- ▶ 

16	18	20	.....	.....	26	.....	.....	32	34
----	----	----	-------	-------	----	-------	-------	----	----
- ▶ 

19	21	23	.....	.....	29	.....	.....	35	37
----	----	----	-------	-------	----	-------	-------	----	----
- ▶ 

40	38	36	34	32	.....	.....	.....	24	22
----	----	----	----	----	-------	-------	-------	----	----





Prénom : \_\_\_\_\_

BON TRAVAIL, LES P'TITS LOUPS !

Numération

Les nombres de 0 à 40

1. Calcule :

$30 + 6 = \underline{\quad}$

$30 + 4 = \underline{\quad}$

$29 + 2 = \underline{\quad}$

$25 + 6 = \underline{\quad}$

$30 + 7 = \underline{\quad}$

$30 + 5 = \underline{\quad}$

$30 + 1 = \underline{\quad}$

$30 + 3 = \underline{\quad}$

$30 + 8 = \underline{\quad}$

$28 + 4 = \underline{\quad}$

$25 + 7 = \underline{\quad}$

$27 + 3 = \underline{\quad}$

2. Décompose chaque nombre en écriture additive.

$31 = 10 + 10 + 10 + 1$

$32 = \underline{\hspace{15cm}}$

$24 = \underline{\hspace{15cm}}$

$32 = \underline{\hspace{15cm}}$

$23 = \underline{\hspace{15cm}}$

$35 = \underline{\hspace{15cm}}$



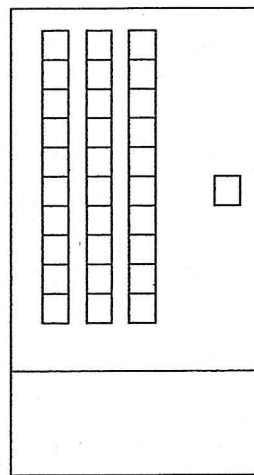
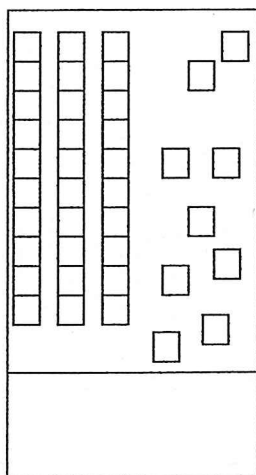
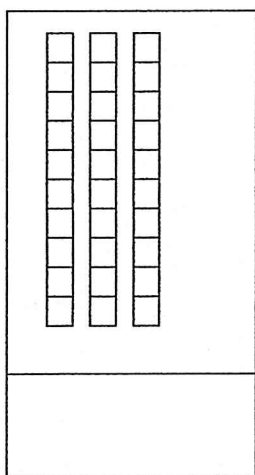
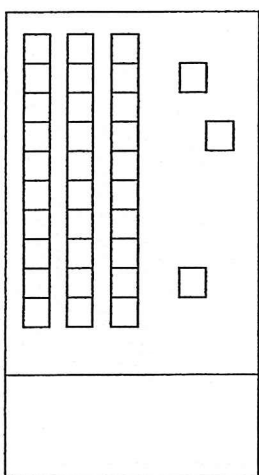
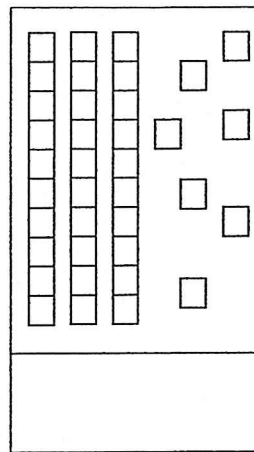
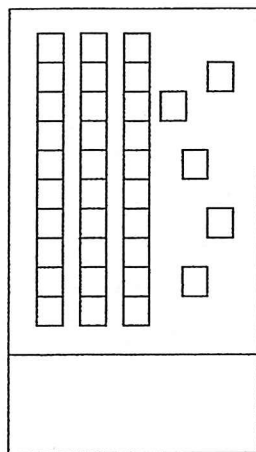
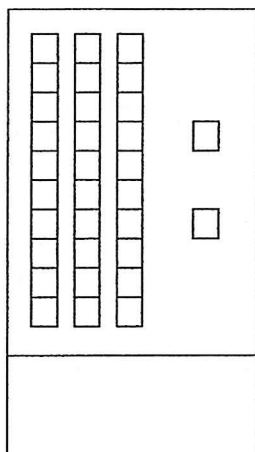
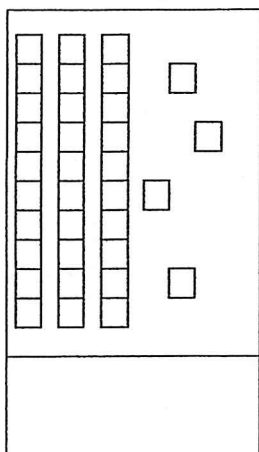
Prénom : \_\_\_\_\_

BON TRAVAIL, LES P'TITS LOUPS !

Numération

Les nombres de 0 à 40

1. Complète.



2. Complète la suite des nombres.

10	11						
----	----	--	--	--	--	--	--

20	21						
----	----	--	--	--	--	--	--

30	31						
----	----	--	--	--	--	--	--





Prénom : \_\_\_\_\_

BON TRAVAIL, LES P'TITS LOUPS !

Numération

Les nombres de 0 à 40

3. Complète le tableau.

Avant	Nombre	Après
32		
	35	
		33
29		

4. Place le signe > ou <

32 \_\_\_\_\_ 12

31 \_\_\_\_\_ 13

30 \_\_\_\_\_ 20

14 \_\_\_\_\_ 34

26 \_\_\_\_\_ 35

36 \_\_\_\_\_ 16

39 \_\_\_\_\_ 18

38 \_\_\_\_\_ 28

31 \_\_\_\_\_ 14

5. Relie.

12 • • douze


13 • • onze

20 • • treize

11 • • trente

30 • • vingt

6. Place les nombres sur la droite graduée : 35 – 21 – 19 – 29 – 31 – 32





Prénom : \_\_\_\_\_

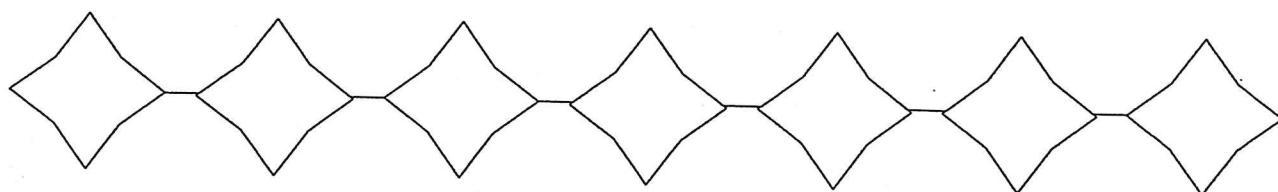
BON TRAVAIL, LES P'TITS LOUPS !

Numération

Les nombres de 0 à 40

4. Range les nombres du plus petit au plus grand.

34 - 39 - 31 - 30 - 35 - 32 - 37



5. Place < ou >.

30 \_\_\_\_ 20

31 \_\_\_\_ 13

38 \_\_\_\_ 29

13 \_\_\_\_ 31

23 \_\_\_\_ 32

23 \_\_\_\_ 33

37 \_\_\_\_ 32

14 \_\_\_\_ 34

29 \_\_\_\_ 30

35 \_\_\_\_ 15

32 \_\_\_\_ 28

18 \_\_\_\_ 39

6. Recopie plusieurs fois les nombres en lettres.

*trente* ⇒ \_\_\_\_\_ - \_\_\_\_\_ - \_\_\_\_\_ - \_\_\_\_\_

*trente et un* ⇒ \_\_\_\_\_ - \_\_\_\_\_

*trente-deux* ⇒ \_\_\_\_\_ - \_\_\_\_\_

*trente-trois* ⇒ \_\_\_\_\_ - \_\_\_\_\_

*trente-quatre* ⇒ \_\_\_\_\_ - \_\_\_\_\_

*trente-cinq* ⇒ \_\_\_\_\_