

FORME 2
2C
MATHEMATIQUE

ZAOUALI NORA
zaoualinora@gmail.com

NOMBRES ET OPERATIONS

Situer des nombres de 0 à 100 sur une droite graduée.

RESOLUTION DE PROBLEMES

La monnaie.

NOMBRES ET OPERATIONS

EXERCICE 1 : Dans chaque série, entoure en **vert** le nombre le plus grand et en **rouge** le plus petit.

Série 1	45	65	6	33	78
Série 2	22	79	57	54	34
Série 3	31	78	9	76	34
Série 4	19	91	12	2	0
Série 5	3	42	25	80	56
Série 6	70	80	60	90	50
Série 7	22	25	52	55	21

EXERCICE 2 : Compare les nombres en utilisant les signes < et >.

< : plus petit que

> : plus grand que



11 31

22 14

25 5

87 78

96 45

89 45

13 13

49 74

14 40

4 9

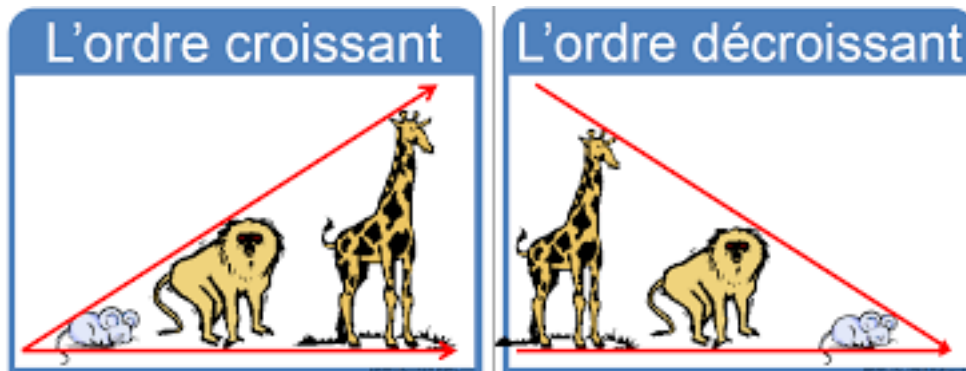
42 24

56 67

EXERCICE 3 : Classer les nombres par ordre croissant ou décroissant.

Ordre croissant :
du plus *petit* au plus *grand*.

Ordre décroissant :
du plus *grand* au plus *petit*.



a) Classer par ordre *décroissant* : 8, 91, 30, 27.

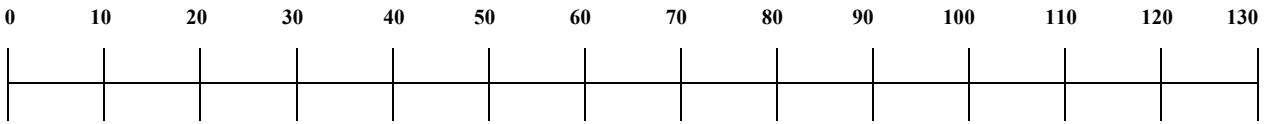
b) Classer par ordre *croissant* : 43, 3, 12, 28.

c) Classer par ordre *décroissant* : 56, 45, 57, 43.

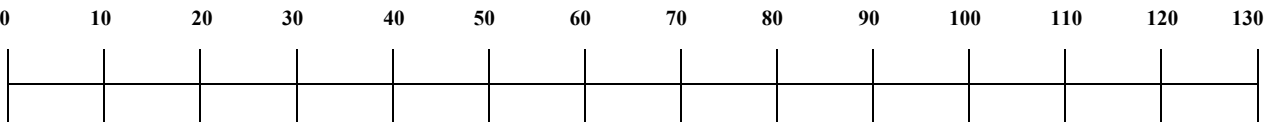
d) Classer par ordre *croissant* : 99, 38, 86, 55.

EXERCICE 4 :

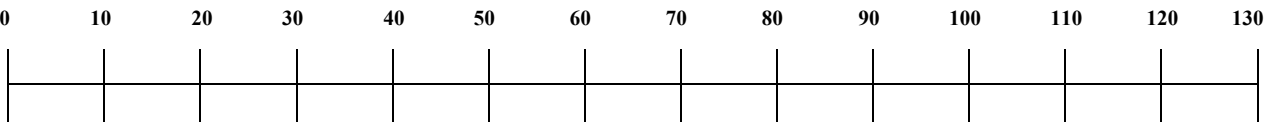
a) Place les nombres suivants à leur place sur la droite des *dizaines* : 7, 53, 105, 72.



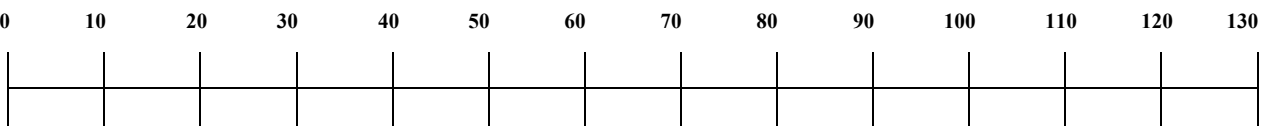
b) Place les nombres suivants à leur place sur la droite des *dizaines* : 30, 76, 125, 78.



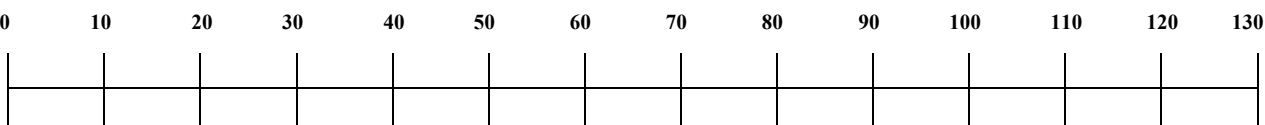
c) Place les nombres suivants à leur place sur la droite des *dizaines* : 15, 60, 99, 45.



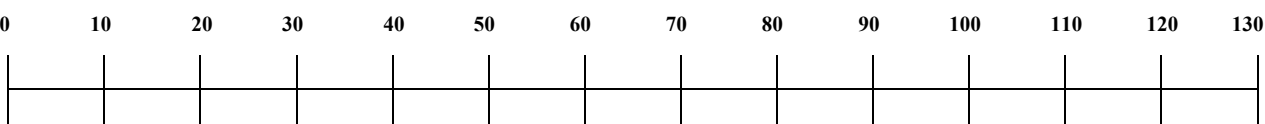
d) Place les nombres suivants à leur place sur la droite des *dizaines* : 44, 74, 118, 130.



e) Place les nombres suivants à leur place sur la droite des *dizaines* : 87, 38, 123, 76.



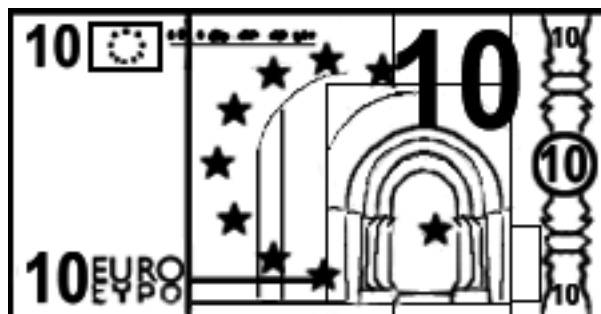


f) Place les nombres suivants à leur place sur la droite des *dizaines* : 8, 56, 87, 113.



RESOLUTION DE PROBLEMES

EXERCICE 1 : Colorie les billets de la bonne couleur.



EXERCICE 2 : Indique la somme contenue dans chaque portefeuille.

1.



.....€

2.



.....€

3.



.....€

4.



.....€

5.



..... €

6.



..... €

7.



..... €

8.




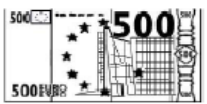
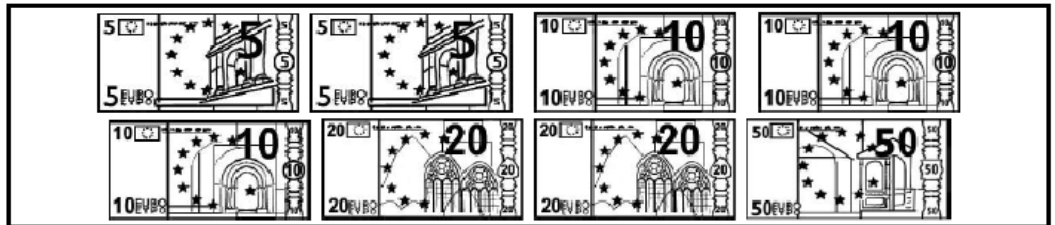


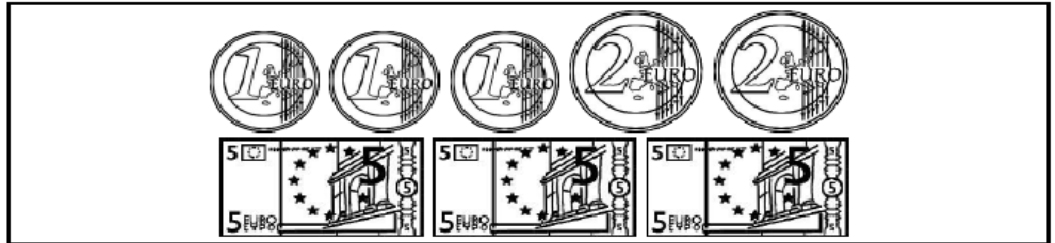
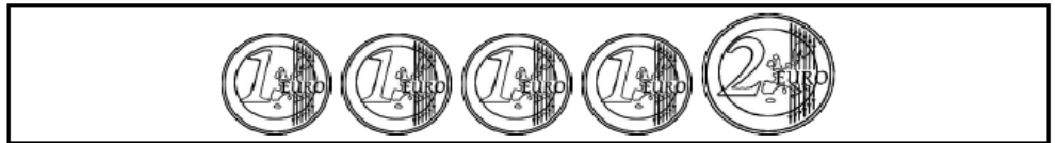
..... €

9.

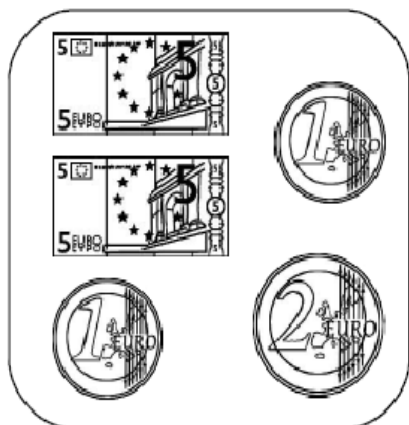


..... €

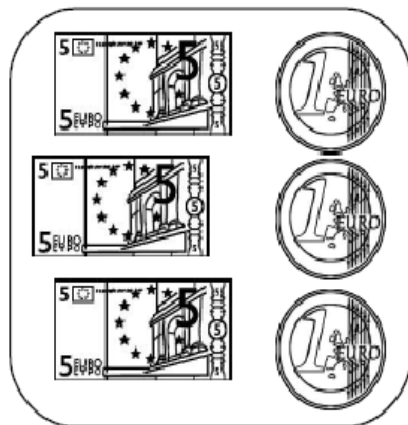
EXERCICE 3 : Colorie les pièces et les billets nécessaires pour avoir la même somme.



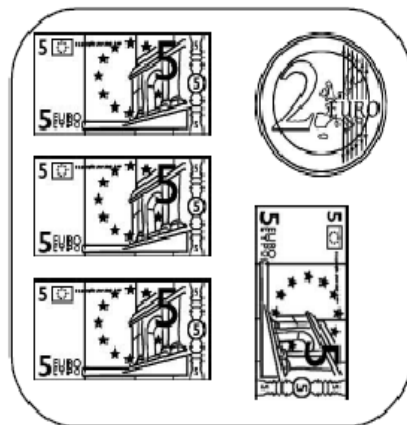
EXERCICE 4 : Colorie les pièces et/ou les billets pour avoir la somme indiquée.



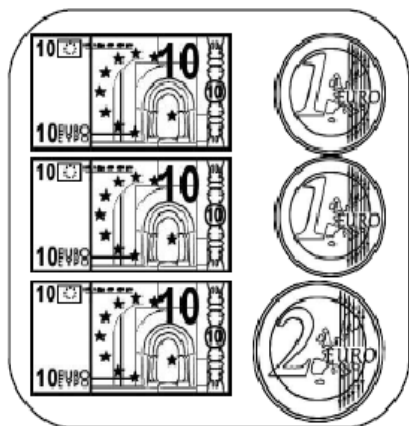
7 €



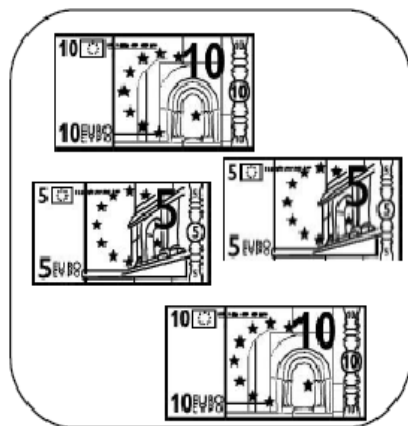
12 €



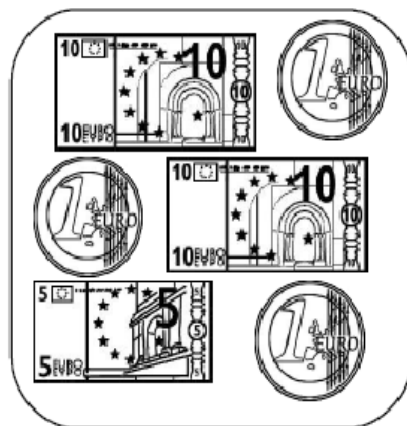
17 €



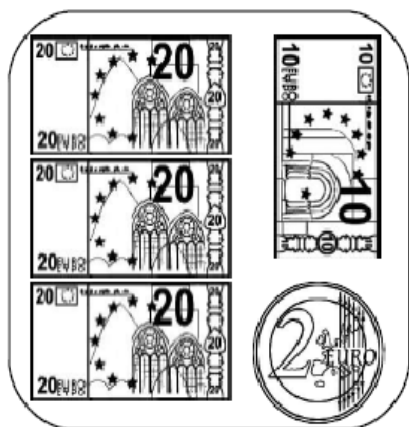
23 €



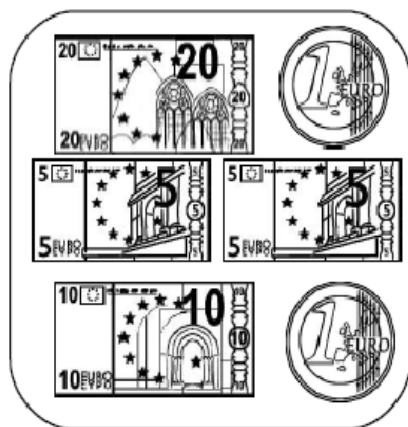
15 €



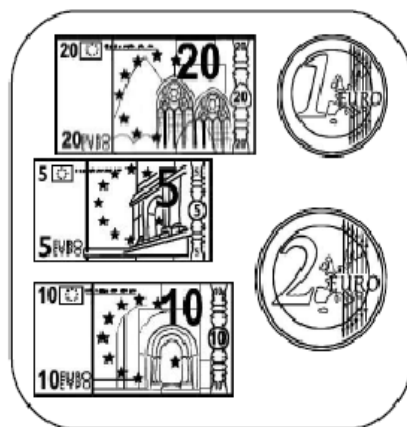
21 €



30 €



41 €



25 €